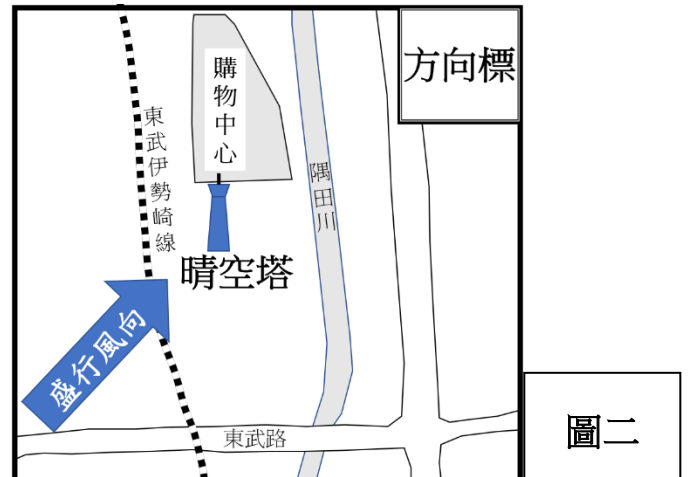
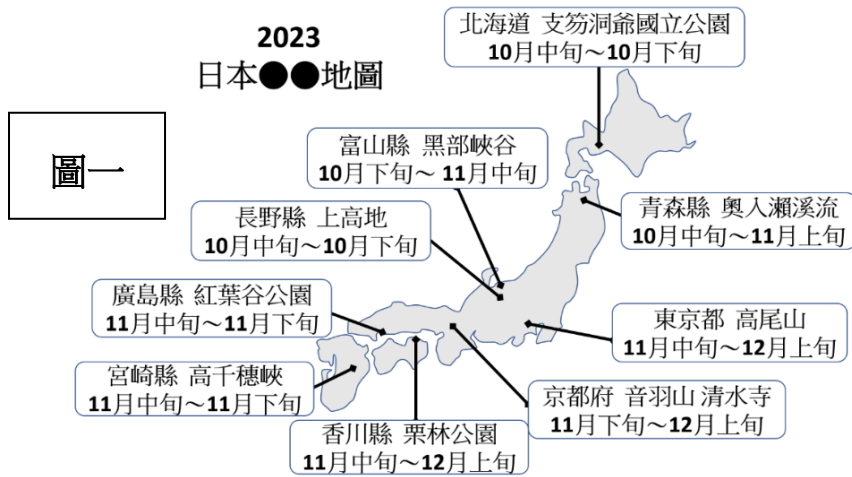
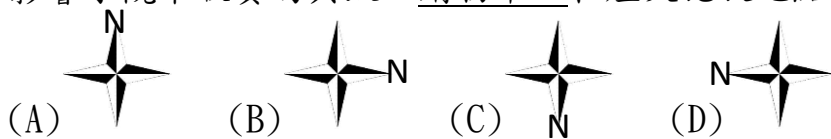


新北市立板橋國中 112 學年度第 1 學期第 3 次段考八年級社會領域(地理科)試題卷

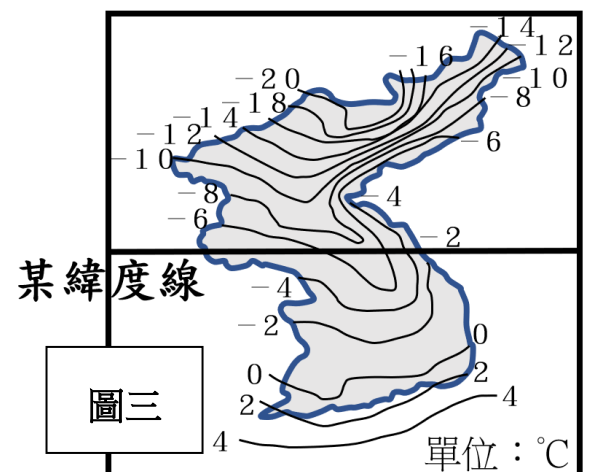
- 新聞報導：「2023 年受到半導體景氣低迷衝擊，三星及 SK 海力士晶片業務呈現虧損，直接衝擊該國經濟，南韓正在考慮下調 2023 年經濟增長預測，今年 GDP 增長可能從之前預測的 1.6% 下調至 1.4%-1.5%。」此報導顯示南韓經濟發展有何特色？ (A)北韓的威脅衝擊經濟 (B)經濟過度集中大型財閥 (C)缺乏自然資源發展受限 (D)國內貧富差距持續擴大
- 據報導：「日本政府為解決低糧食自給率的情形，開始積極發展智慧農業。利用無人機、人工智慧、機器人等技術應對農業█的問題，並透過衛星影像與 GPS 監測土壤，分析出適當的管理決策和收成時機，預計至 2025 年日本智慧農業市場將成長至 442.8 億日圓 (台幣 111.3 億元)」。根據報導中，█應該指何種農業問題？ (A)人口嚴重老化 (B)地廣人稀 (C)土壤不肥沃 (D)農產價格不高
- 小琪 2023 年規畫自己的日本旅遊計畫，她參考了旅遊網站發現了一張主題觀光地圖，如圖一。但是地圖的主題卻沒有呈現，對於該旅遊地圖的敘述何者正確？ (A)此旅遊地圖主題為賞櫻 (B)該主題依時間早晚順序呈現由南向北排列 (C)此時日本盛行風向為東北季風 (D)會呈現南北時序的差別，是受緯度高低影響。



- 北韓政府因 COVID-19 封鎖邊境，停止進口糧食與肥料，並嚴格限制人民跨越邊境，北韓人士稱該國正面臨嚴重的飢荒，並透露他的村莊已有 5 人餓死。北韓近年來遇到嚴重的饑荒問題，這和下列哪一個因素的關係較小？ (A)耕地較少 (B)冬季寒長 (C)生產技術落後 (D)人口老化，勞動力不足。
- 阿東在跨年夜到日本東京購物中心欣賞晴空塔煙火秀，當晚吹拂當季盛行風向，使得煙霧遮蔽了煙火，影響了觀眾欣賞的興致。購物中心和煙火施放地點如圖二所示，該圖缺漏的方向標應為下列何者？



- 圖三為朝鮮半島某月份的等溫線分布圖，地理老師在課堂上請學生依圖三判斷回答問題，以下同學的回答何者錯誤？



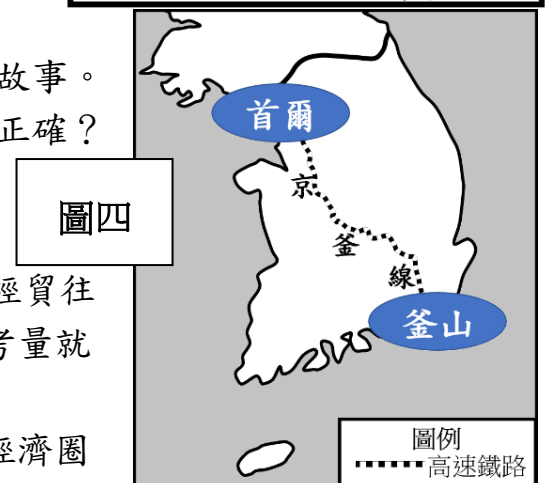
- 小明：地圖中的某緯度線為北緯 38 度
- 阿華：這是朝鮮半島冬季的等溫線分布圖
- 小芳：朝鮮半島東半部等溫線呈現凹字形地區為長白山脈
- 阿忠：緯度高低是造成此等溫線分布圖的原因之一

- 《屍速列車》是 2016 年上映關於喪屍題材的電影，背景位於一輛由首爾開往釜山的高速列車上，圍繞著一群乘客開始在喪屍襲擊中生存的故事。參考圖四，由首爾前往釜山的京釜線，路途過程對於環境變化敘述何者正確？

- 年雨量逐漸增加 (B)年溫差逐漸增加
- 海拔高度逐漸降低 (D)人均所得逐漸增加

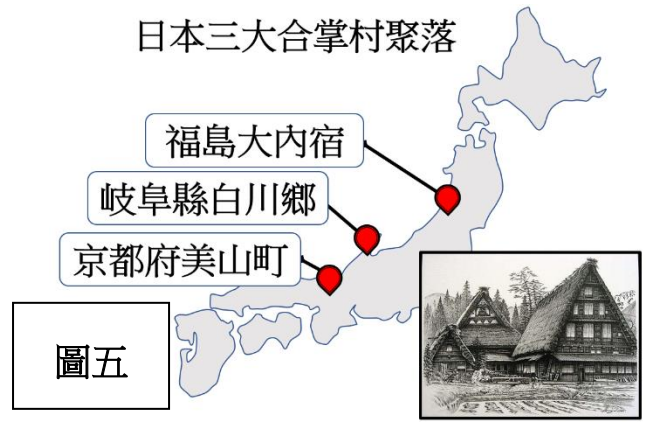
- 韓國在 2015 年與中國簽訂自由貿易協定(FTA)，希望加強與中國的經貿往來，增加港口的貿易出口總量。若由地緣關係判斷，南韓政府宜優先考量就近與中國哪一地區合作？

- 長白山脈邊境口岸 (B)環渤海經濟圈 (C)珠三角經濟圈 (D)長三角經濟圈



9、旅行社職員想設計一份有關日本合掌村的深入報導，其設計介紹文案如下。圖五為介紹三大合掌村聚落的分布地圖，請問以下文案設計內容何者有誤？

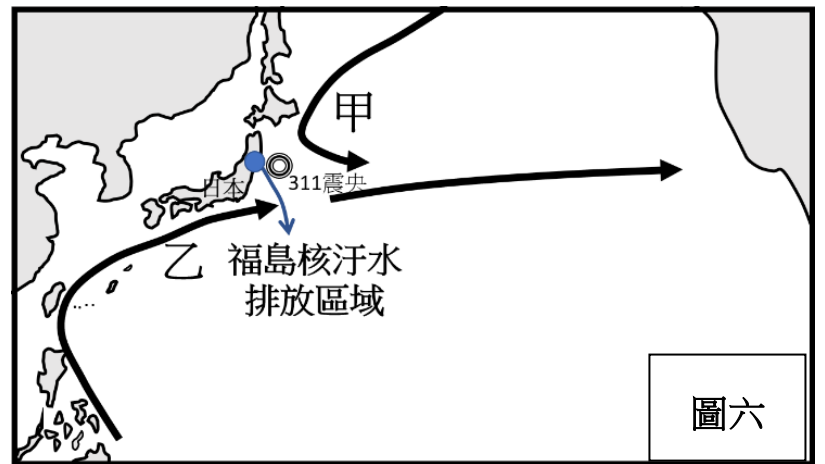
- (A)屋頂是利用就地取材的稻草、茅草來鋪設
- (B)高傾斜的屋頂設計，像是雙手合掌禱告而得名，主要功能是防止大雪壓垮屋頂
- (C)此三大合掌村聚落，降雪的水氣主要來自於日本海
- (D)合掌村集中在日本西岸，與日本冬季盛行東南季風有關



題組：日本在 2011 年發生「311 大地震」，震央位於日本東北方的近海。由於地震規模高達芮氏 9.0，引發了大海嘯侵日，造成一萬人以上罹難，並引起核能輻射外洩的災害，圖六為當時地震的示意圖。請問：

10、圖六內容中的甲、乙為日本兩大洋流，請問甲、乙洋流名稱及洋流屬性配對何者正確？

- (A)甲：親潮(寒流)、乙：黑潮(暖流)
- (B)甲：黑潮(寒流)、乙：親潮(暖流)
- (C)甲：親潮(暖流)、乙：黑潮(寒流)
- (D)甲：黑潮(暖流)、乙：親潮(寒流)。



11、日本地形受到內營力及外營力的影響，造就許多特殊的自然環境特色。例如「311 大地震」的發生，其成因與下列何者「營力」相同？

- (A)海岸線曲折 (B)河川流速湍急 (C)溫泉遍布 (D)平原廣大。

12、「311 大地震」重創日本的經濟，由於核電廠的災害，造成許多工廠被迫限電，導致生產量大減。依日本產業發展情形判斷，將對國際市場上哪一項商品的貿易出口造成相當影響？

- (A)成衣出口 (B)小麥出口 (C)礦產出口 (D)汽車出口。

13、依圖六判斷，福島核污水的排放，除了日本海產遭受衝擊之外，下一個遭受影響最深的國家最可能是哪裡？(A)中國 (B)美國 (C)台灣 (D)南韓

題組：2021 年 7 月底，南韓的文化體育觀光部宣布將 Kimchi 的正式華文譯名訂為辛奇，起因是由於前一年中國向國際標準化組織 (ISO) 申請認證四川泡菜為市場標準引起的泡菜宗主國之爭，南韓民間甚至發起聯署，要求中國停止盜竊韓國文化。根據表一的資訊，回答下列問題。

表一	中國泡菜 (Paocai)	南韓辛奇 (Kimchi)
	來自四川的醃製食物	用蔬菜製成的辛辣醃製食品

14、朝鮮半島上的泡菜文化，是受到自然環境的因素，該因素為何？

- (A)四面環海 (B)冬季嚴寒 (C)農產過剩 (D)地震頻繁。

15、南韓呼籲中國停止冒充文化起源國，是因南韓作為中國曾經的藩屬國也受到漢文化深遠的影響，請問下列何者韓國文化不會與中國文化有起源國之爭？

- (A)韓國針灸 (B)韓國祭孔大典 (C)韓國辣炒年糕 (D)韓國溫突。

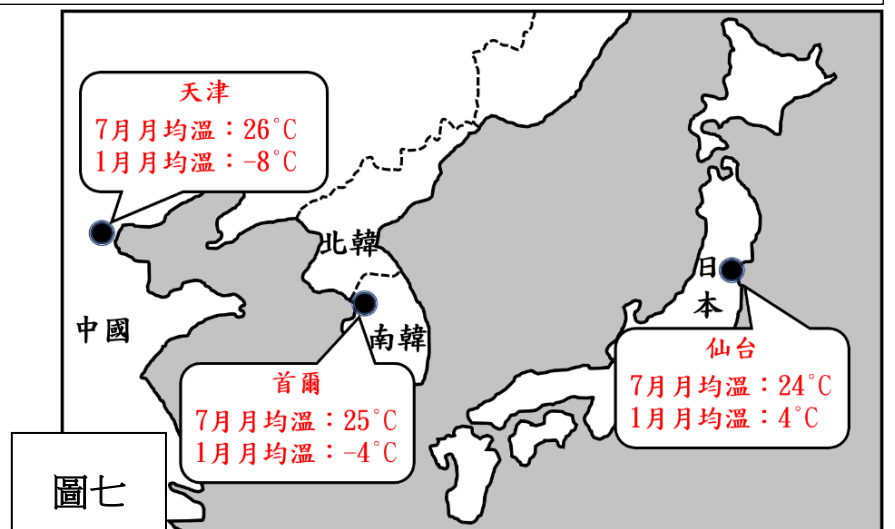
題組：圖七為東亞與東北亞三個都市：天津、首爾及仙台的位置分布圖，並標示出三地 1 月與 7 月的月均溫。請問：

16、三個都市的年溫差，由大到小的排列為何？

- (A)天津、首爾、仙台 (B)仙台、天津、首爾
- (C)仙台、首爾、天津 (D)首爾、天津、仙台

17、此三個都市緯度都差不多，但卻年溫差有明顯差距，其主因為何？

- (A)地勢高低不同 (B)海洋水氣調節強度不同
- (C)距離海洋遠近不同 (D)冬季季風風向不同



新北市立板橋國中 112 學年度第 1 學期第 3 次段考八年級社會領域(地理科)答案

1.	2.	3.	4.	5.	6.	7.	8.	9.	10.
B	A	D	D	D	C	A	B	D	A
11.	12.	13.	14.	15.	16.	17.			
C	D	B	B	C	A	B			